

# संकलित मूल्यमापन - I ( 2023- 24 )

शाळेचे नाव-

इयत्ता : 1 ली

विषय - गणित

विद्यार्थ्यांचे नाव- -----

ह. क्र.-

वेळ- 90 मिनिट

गुण-30

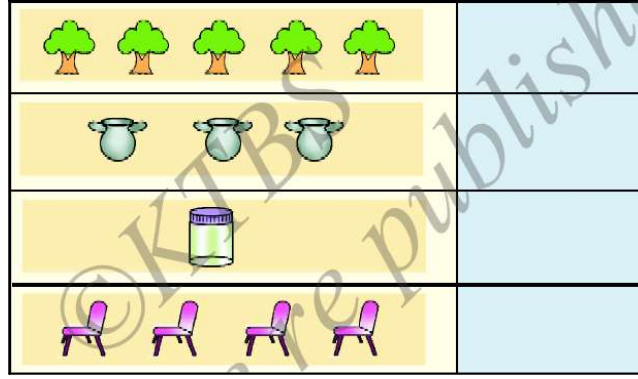
दिनांक-

पर्यवेक्षक सही-

मिळविलेले गुण			
लेखी	तोंडी	एकूण	20%

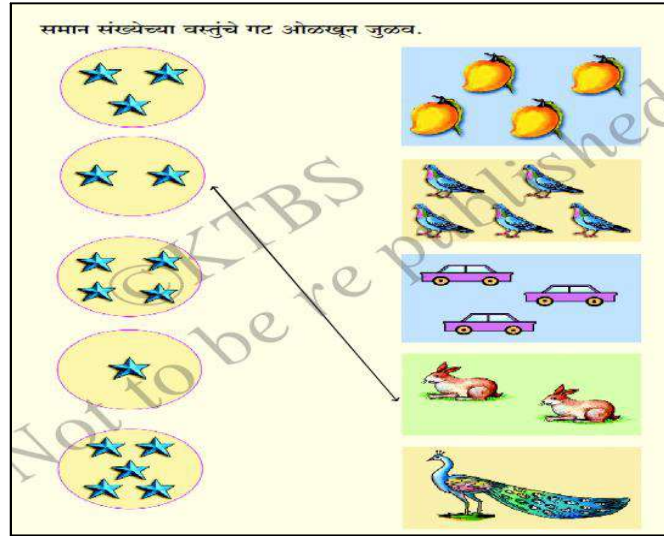
प्रश्न 1 ला. चित्रे मोजा व योग्य अंक लिहा.

गुण 1×4=4



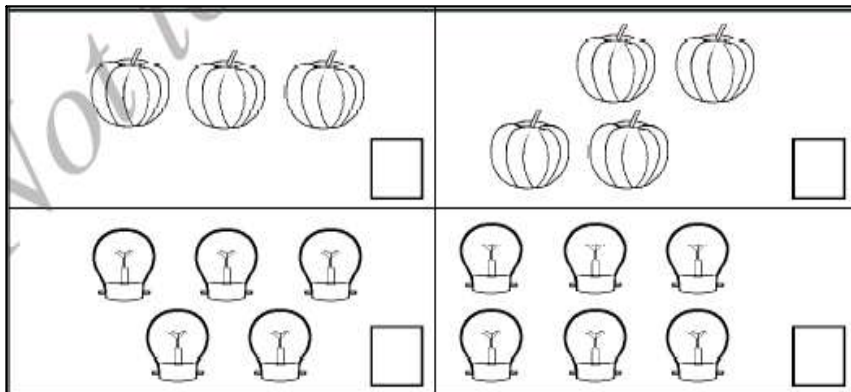
प्रश्न 2 रा . समान संख्येच्या वस्तू असणारी चित्रे रेषेने जुळवा.

गुण 1×4=4



प्रश्न 3 रा. कमी संख्येच्या चित्राखाली(√) अशी खूण करा.

गुण 1×2=2



प्रश्न 4 था. मोठ्या संख्येला गोल करा.

गुण  $1 \times 2 = 2$

8, 7

6, 8

प्रश्न 5 वा. लहान संख्येला गोल करा.

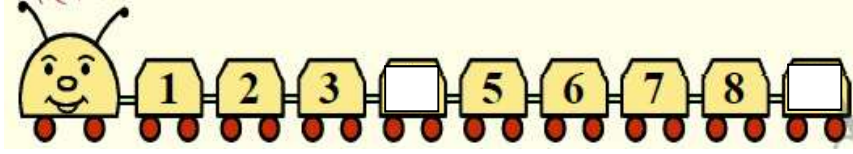
गुण  $1 \times 2 = 2$

9, 5

4, 2

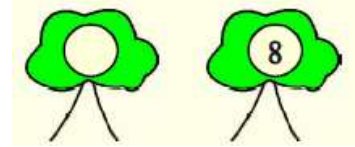

प्रश्न 6 वा. दिलेल्या संख्येच्या पुढील संख्या लिहा.

गुण  $1 \times 2 = 2$



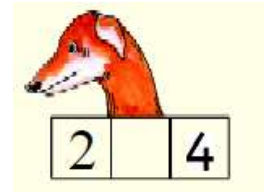
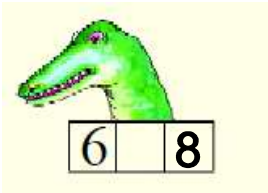
प्रश्न 7 वा. दिलेल्या संख्येच्या मागील संख्या लिहा.

गुण  $1 \times 2 = 2$




प्रश्न 8 वा. दिलेल्या संख्येच्या मधील संख्या लिहा.

गुण  $1 \times 2 = 2$



प्रश्न 9 वा. वस्तू मोजा व लिहा.

गुण 2



प्रश्न 10 वा. बेरीज करा.

गुण  $2 \times 2 = 4$

$$\begin{array}{r} 1) \quad 4 \\ \quad + 4 \\ \hline \hline \end{array}$$

$$\begin{array}{r} 2) \quad 5 \\ \quad + 3 \\ \hline \hline \end{array}$$

प्रश्न 11 वा. वजाबाकी करा.

गुण  $2 \times 2 = 4$

$$\begin{array}{r} 1) \quad 3 \\ \quad - 1 \\ \hline \hline \end{array}$$

$$\begin{array}{r} 2) \quad 6 \\ \quad - 4 \\ \hline \hline \end{array}$$