

# संकलित मूल्यमापन - I ( 2023- 24 )

शाळेचे नाव-

इयत्ता : 2 री

विषय - गणित

विद्यार्थ्यांचे नाव- .....

ह. क्र.-

वेळ- 90 मिनिट

गुण-30

दिनांक-

पर्यवेक्षक सही-

मिळविलेले गुण			
लेखी	तोंडी	एकूण	20%

प्रश्न 1 ला. जोड्या जुळवा.

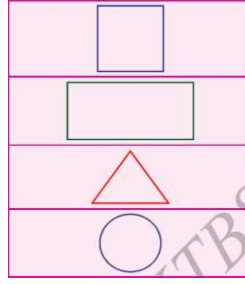
गुण 1×4=4

1) आयत

2) त्रिकोण

3) चौरस

4) वर्तुळ



प्रश्न 2 रा . खालील संख्या अक्षरात लिहा.

गुण 1×4=4

1) 7 = .....

2) 16 = .....

3) 48 = .....

4) 82 = .....

प्रश्न 3 रा. दिलेल्या संख्येच्या पुढची संख्या लिहा.

गुण 1×2=2



प्रश्न 4 था. दिलेल्या संख्येच्या मागील संख्या लिहा.

गुण 1×2=2



प्रश्न 5 वा. चौकटीतील लहान संख्येभोवती वर्तुळ काढा.

गुण 1×2=2

16, 19, 21

45, 49, 41

प्रश्न 6 वा. चौकटीतील मोठ्या संख्येभोवती वर्तुळ काढा.

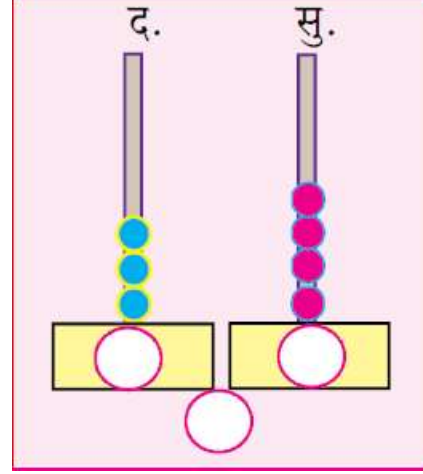
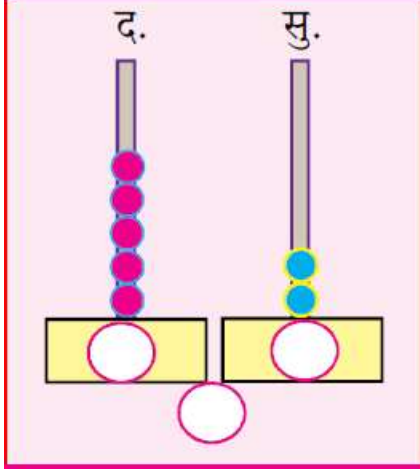
गुण 1×2=2

76, 86, 56

74, 71, 78

प्रश्न 7 वा. मोजमणी चौकटीतील मनी मोजून खालील चौकटीत लिहा.

गुण 1×2=2



प्रश्न 8 वा. दिलेल्या संख्या चढत्या क्रमात लिहा.

गुण 2

15, 19, 14, 10

--	--	--	--

प्रश्न 9 वा. दिलेल्या संख्या उतरत्या क्रमात लिहा.

गुण 2

62, 69, 60, 64

--	--	--	--

प्रश्न 10 वा. बेरीज करा.

गुण 2×2=4

$$\begin{array}{r} 1) \ 4 \ 3 \\ + \ 1 \ 4 \\ \hline \end{array}$$

$$\begin{array}{r} 2) \ 1 \ 6 \\ + \ 5 \ 3 \\ \hline \end{array}$$

प्रश्न 11 वा. वजाबाकी करा.

गुण 2×2=4

$$\begin{array}{r} 1) \ 6 \ 1 \\ - \ 3 \ 7 \\ \hline \end{array}$$

$$\begin{array}{r} 2) \ 2 \ 0 \\ - \ 1 \ 3 \\ \hline \end{array}$$